

基隆市立建德國民中學 109 學年度第 1 學期 七年級 社會科 補考題庫

一、選擇題

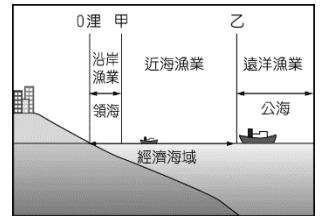
1、臺九線為全臺最長的公路，其通過的路線如右圖所示。在臺九線穿越的區域中，何種聚落景觀最為常見？(A)辦公大樓 (B)溫帶果園 (C)工業廠房 (D)鄉間稻田。



2、宜蘭縣南方澳漁港附近，有許多魚罐頭工廠，其工業區位條件為何？(A)市場區位 (B)原料區位 (C)勞工區位 (D)動力區位。

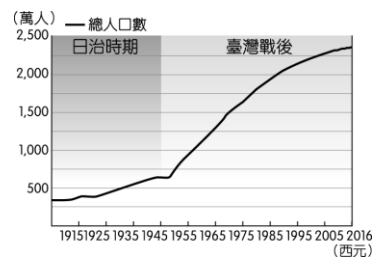
3、雲林縣、嘉義縣內部分鄉村地區目前面臨人口大量外移的情況，對當地發展極為不利。請問：這些地區人口外流最主要的因素可能為下列何者？(A)人口密度過高 (B)環境汙染嚴重 (C)糧食供應不足 (D)就業機會較少。

4、右圖為臺灣傳統漁業活動的分布範圍圖，由圖中標示判斷，甲、乙兩點所代表的距離分別為何？(A)5 哩；10 哩 (B)6 哩；30 哩 (C)12 哩；200 哩 (D)20 哩；120 哩。



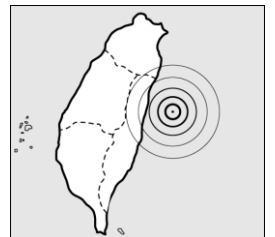
5、醫師、律師、精算師、會計師都是高所得的行業。請問：這些職業是屬於第幾級產業活動？(A)第一級 (B)第二級 (C)第三級 (D)第四級。

6、右圖是「臺灣人口數統計圖」，由此圖可以判斷下列哪一現象？(A)人口數量的增減 (B)教育程度的高低 (C)人口素質的高低 (D)受扶養人口的比例。



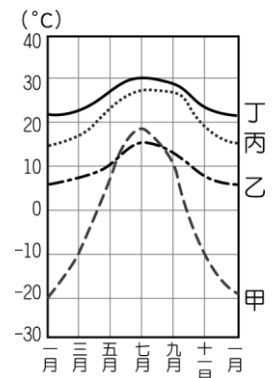
7、都市捷運系統為國際大型都市內部的重要交通方式。請問：相較於公路、鐵路、空運等運輸方式，下列有關捷運系統運輸的特性，何者較不正確？(A)運客量大 (B)適合長程運輸 (C)避免塞車 (D)有專用車道。

8、地震的影響範圍受到震央位置的影響，右圖為某次地震的震央位置，若愈靠近震央位置，地震會愈大，則哪一個區域的震度會最大？(A)北部區域 (B)中部區域 (C)南部區域 (D)東部區域。



9、臺灣北部地區的地形以丘陵、山地為主，最適合哪一種經濟作物的生長？(A)茶 (B)甘蔗 (C)花生 (D)香蕉。

10、自然環境優越的地區多為人口集中處，右圖為四個不同地區的氣溫分布圖，其中何處人口分布可能相對較為稀疏？(A)甲 (B)乙 (C)丙 (D)丁。



11、我們若要分析一地每個有工作能力的人須扶養多少人口，最需要當地的哪一項人口組成特徵？(A)性別組成 (B)年齡組成 (C)職業組成 (D)族群組成。

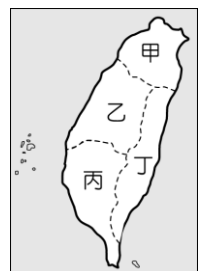
12、近年來臺灣都市化程度愈來愈高，與下列何者的發展程度有密切關係？(A)教育 (B)文化 (C)經濟 (D)政治。

13、在日本，每四包毛豆就有一包來自臺灣，2013 年外銷總產值高達 6,859 萬美元，臺灣毛豆在日本的市占率達 42%。請問：臺灣毛豆進軍日本最有利的競爭條件為何？(A)產品價格低廉 (B)保存日期較長 (C)日本關稅優惠 (D)精緻優良品質。

14、臺灣目前已通車的大眾捷運系統有臺北捷運、桃園捷運及高雄捷運，成為當地居民主要的交通方式。關於「大眾捷運系統」的敘述，何者錯誤？(A)有助於臺灣東西部均衡發展 (B)有專用行車軌道 (C)目的在紓解都市擁擠交通 (D)運客量較汽車大。

15、聚落可依產業活動區分成農業、漁業或工商業等類型，其中通常有利於形成工商業聚落的發展條件應為下列何者？(A)土地廣闊 (B)地形崎嶇 (C)交通便利 (D)糧食充足。

16、教育部近年來積極推動「資訊下鄉」活動，協助偏鄉學校建置資訊教室，希望可以降低城鄉之間的教育落差。請問：若以需求而言，下列哪一個區域所需要的資源最多？(A)甲 (B)乙 (C)丙 (D)丁。



17、臺灣為了保護珍貴的自然及人文資源，在各地設立國家公園，其中以戰地史蹟為主的國家公園設立於下列哪一個地區？(A)屏東縣 (B)南投縣 (C)花蓮縣 (D)金門縣。

18、臺塑、中油等石化工業近年來由於石油價格高漲而獲利可觀。請問：臺灣石化工業最早在什麼時候開始發展？(A)民國 50 年代 (B)民國 60 年代 (C)民國 70 年代 (D)民國 80 年代。

19、當何種情況發生時，可能會導致當地的社會增加率呈現負成長的現象？(A)氣候溫和、土壤肥沃 (B)政治民主、民生富裕 (C)戰爭爆發、民不聊生 (D)治安良好、安居樂業。

20、臺灣近年來面臨著中國大陸及其他東南亞國家的挑戰，許多早期臺灣主要的工業產品，如燈泡、映

像管、電風扇等產品均大量為該地區所取代。請問：臺灣面臨此類問題時應採取何種方式解決？
(A)降低生產成本 (B)引進國際移工 (C)提高生產技術 (D)爭取政府補貼。

21、青少年有屬於自己的語言、服裝、喜好等，這種屬於青少年特有的行為模式，稱為下列何者？
(A)青少年叛逆文化 (B)青少年主流文化 (C)青少年次文化 (D)青少年低俗文化。

22、我國《憲法》第十三章第四節訂有社會安全制度有關之規範，為基本國策之一。有關「社會安全」的概念，下列何者正確？ (A)國家保障生存權不顧及工作權 (B)讓每個人能過著有尊嚴的生活 (C)人雖生而平等，基本權利因人而異 (D)必須接受國家提供的生活方式。

23、為了維持社會秩序，人與人之間的互動有一套行為準則，使人的行為有遵循的方向，知道哪些事應該做、哪些事不應該做，而這套行為準則稱為下列何者？ (A)社會規範 (B)自然法則 (C)因果循環 (D)宗教戒律。

24、智皓與潔雨結婚後兩人相敬如賓，在生活上彼此扶持，家務事也共同分擔。請問：他們兩人是遵守何種社會規範？ (A)五倫 (B)校園倫理 (C)第六倫 (D)環境倫理。

25、陳樹菊阿嬤曾被《富比士》雜誌、《時代》雜誌選為亞洲慈善英雄人物榜、年度最具影響力時代百大人物，她20年來捐出超過1000萬元做公益。請問：陳樹菊阿嬤的善行對社會有何幫助？ (A)幫助弱勢，讓社會更加溫暖 (B)解決全國弱勢者貧窮問題 (C)讓所有人都安居樂業 (D)提升每個人的幸福。

26、古今中外，任何的人類社會都有屬於自己的文化，這顯示出文化具有哪一項特徵？ (A)普遍性 (B)位階性 (C)差異性 (D)優越性。

27、俗話說：「舉頭三尺有神明。」這是藉由下列哪一種社會規範來勸人為善？ (A)倫理道德 (B)宗教信仰 (C)風俗習慣 (D)法律。

28、小丁在參觀展覽的過程中，看到了以下的內容：「人生而自由平等，各族群間的文化都應受到相同的重視與對待，並應以多元的觀點來維護各族群的地位，彼此互相學習與欣賞。」下列哪一種說法符合上述的觀點？ (A)尊重不同的文化 (B)同化不同的文化 (C)消滅不同的文化 (D)排斥不同的文化。

29、我國有各種社會福利措施的照顧與支持，對應各個人生階段，可能遇到的情況有哪些，下列對應何者正確？ (A)中壯年——需要托育或課後照顧服務 (B)少年——需要年金保險制度 (C)兒童——需要工作負擔家計 (D)老年——需要醫療服務。

30、公民老師於上課時引用英國新聞《衛報》的報導，指出自2008年以來，全球最富有的1%人的財富每年平均增長速度是其餘99%的兩倍，預估至2030年時，1%富人資產將占世界總財富的三分之二。老師請同學對此新聞下註解，下列何人的說法與引文最為相關？ (A)喬安：社會存在嚴重的貧富差距 (B)昭國：透過教育可以改變社會地位 (C)天晴：父母的所得收入會影響下一代的社會地位 (D)天彥：政府協助個人改善社會不公平現象。

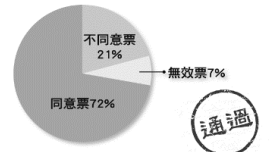
31、在民主社會，民眾對政府施政的意見，可以透過多種方式反映，關於右圖此方式的敘述何者正確？ (A)加入利益團體者才有參與資格 (B)最終結果會成為政府施政參考 (C)常訴諸激烈暴力手段達成目的 (D)主辦單位以私人營利企業為主。



32、政府為照顧弱勢族群，要求大賣場依法在公共停車場域畫設特殊用途停車格，以下哪一張停車格標示不是以照顧弱勢為目的？



(A) (B) (C) (D)



33、勞動部對於颱風天勞工是否要出勤表示：「雇主應以安全為首要考量，如果有違反勞動基準法規定的狀況，勞工可撥打『1955』專線申訴。」上述內容說明下列哪種事實？ (A)以法律規範外在行為 (B)以宗教的力量感化人心 (C)以道德的力量約束雇主 (D)以各種社會規範共同降低颱風的損害。

34、筠斌留意到一則快訊，如右圖內容所示，此顯示公共意見的何種特性？ (A)差異性 (B)影響性 (C)公開性 (D)不穩定性。



35、全國368個鄉鎮區中，有3個「無醫鄉」。無醫鄉是指缺乏醫院或診所的鄉鎮，居民需到別的城市尋求治療。請問：這反映社會中哪一不公平的現象？ (A)利益分配 (B)責任負擔 (C)貢獻程度 (D)需求滿足。

36、以下是作家陳之華在芬蘭教育：競爭力從何而來？一書中，與芬蘭友人的對話。根據內容所述，芬蘭的教育理念是希望在社會中傳遞何種核心價值？

「在妳去過那麼多學校，觀察這麼多不同城市鄉鎮後，有什麼結論嗎？」克麗絲汀娜問著。瞬間，我沉默了，半低著頭，不禁露出淺淺的笑容說：「怎麼辦呢？怎麼都一樣？」她笑著回我說：「那是好事啊。」

我所說的一樣，是城鄉差距小的一樣。

我所說的一樣，是教育資源分享情形相同的一樣。

我所說的一樣，是各地校舍與建築品質優良狀況相同的一樣。

我所說的一樣，是學校與地方圖書館分布、藏書豐富、情形相似的一樣。

我所說的一樣，不論出生和家庭，絕對保障高水準基礎教育的一樣。

我所說的「一樣」，是不論在芬蘭的任何地區，學生都一樣有熱騰騰的營養午餐可吃、有一樣高水準的教科書可讀、有一樣基本素質優良的教師、有相同的教學理念被完整執行，以及充足的課外讀物鼓舞著學生的心靈。

- (A)終身學習 (B)公平正義 (C)社會流動 (D)文化傳承。
- 37、胖虎當選班長以後，老是藉職權對同學大小聲，雖然他沒有違反班規，但是班上同學仍可以何種方式來制裁他？ (A)輿論的批評 (B)超自然的力量 (C)公權力 (D)法律。
- 38、阿娟對從事志工服務很有興趣。請問：下列哪一個團體可以滿足她的需求？ (A)樂儀隊 (B)董氏基金會 (C)百貨業工會 (D)民主進步黨。
- 39、子媛正在撰寫一篇論文，內容提及「富爸爸比較可能有富兒子，窮爸爸則有窮兒子。」請問：下列何者最可能是子媛的論文所探討的主題？ (A)貧窮與家庭關係之探討 (B)貧窮與性別關係之探討 (C)貧窮與種族關係之探討 (D)貧窮與工作關係之探討。
- 40、隨著政治民主化、社會多元化，臺灣已成為一個文化大熔爐。請問：面對各種不同的文化湧入臺灣，我們應抱持何種態度？ (A)排斥 (B)尊重 (C)全盤接納 (D)學習強權文化。
- 41、中華人民共和國與美國建交之後，其對臺灣的外交政策，下列何者錯誤？ (A)三不政策 (B)提出三通四流 (C)不放棄以武力解放臺灣 (D)一國兩制。
- 42、抗戰勝利後，國民政府明令全國動員戡亂，是因為當時國家正處於何種狀況？ (A)抗日戰爭退敗 (B)二二八事件擴大 (C)中共全面發動內戰 (D)八二三炮戰發生。
- 43、臺灣史上的「白色恐怖」，是指下列哪一個時期政府對臺灣人民人權及自由的戕害？ (A)日本殖民統治時期 (B)戒嚴時期 (C)解除戒嚴後 (D)政黨輪替後。
- 44、日本治臺時期，臺灣人雖受到日本不合理的殖民統治，但臺灣社會也在總督府的建設下，展現了不同於以往的風貌。下列哪一敘述並非當時臺灣社會的變遷？ (A)西式服飾流行 (B)守時習慣建立 (C)人民直選總督 (D)公共衛生水準提高。
- 45、「小春在日治時期改名為春子，並且定期參拜日本神社，她的丈夫也被日本政府徵調到南洋去當軍伕。」根據上文判斷，小春所處的時期有可能為何？ (A)民族自決時期 (B)殖民地特殊統治時期 (C)皇民化運動時期 (D)內地延長主義時期。
- 46、第一次世界大戰之後，因為受到何種風潮的影響，使得日本的殖民政策緩和下來？ (A)自由主義 (B)新帝國主義 (C)民族自決 (D)社會主義。
- 47、1979年，高雄爆發「美麗島事件」，黨外人士多人被捕，其他黨外人士則透過哪些方式，延續民主運動的聲勢？ (A)選舉和宣傳 (B)武裝抗爭 (C)爭取國際支援 (D)推動臺獨運動。
- 48、解嚴以來，臺灣的政治性團體如雨後春筍般出現，個人的政治理念能獲得管道加以抒發，因而促進了社會的進步。下列何者是臺灣歷史上第一個合法的政黨？ (A)臺灣民眾黨 (B)臺灣民主黨 (C)中國國民黨 (D)興中會。
- 49、下列是臺灣民主政治發展史上的重大事件：(甲)美麗島事件；(乙)首次政黨輪替；(丙)開放黨禁；(丁)青年學生發起三月學運。以上哪一事件發生的時間最晚？ (A)甲 (B)乙 (C)丙 (D)丁。
- 50、在兩岸處於武力對抗時期，中共企圖以武力奪取臺灣，因而發生過哪些戰役？(甲)古寧頭戰役；(乙)越戰；(丙)八二三炮戰；(丁)韓戰 (A)甲乙 (B)甲丙 (C)乙丙 (D)甲丁。
- 51、日治時期，總督府在臺灣推行農業改革，使臺灣稻米產量激增。這時期大量的稻米多輸往何地？ (A)南洋各國 (B)荷蘭 (C)美洲 (D)日本。
- 52、「他的小說故事，尤以描寫鄉土人物的悲苦生活見稱，因具強烈的草根性和泥土味，被稱為鄉土作家。多部作品已改編成電影，如《兒子的大玩偶》、《我愛瑪莉》等。」上述應是指哪位作家？ (A)白先勇 (B)王拓 (C)黃春明 (D)司馬中原。
- 53、1895年臺灣進入日本殖民統治時期。請問：臺灣是在下列哪一事件後割讓給日本？ (A)施琅攻臺

(B)牡丹社事件 (C)甲午戰爭 (D)清法戰爭。

54、日本投降後，國民政府為了順利進行接收與治臺事宜，成立下列哪一機構？ (A)臺灣總督府 (B)臺灣省行政長官公署 (C)臺灣議會 (D)警備總部。

55、義務教育一直是臺灣人力培育的重要管道，尤其國民的基本知識與公民素養，更需在義務教育階段加以培育，以使國家社會能持續不斷地發展與進步。請問：臺灣最早實施義務教育是在何時？ (A)1895年 (B)1922年 (C)1943年 (D)1968年。

56、「1970~1980年代全球經濟不景氣，使許多中小企業倒閉，幸賴政府早已推動該項經濟建設，協助產業界度過災厄。」請問：上述的「該項經濟建設」是下列何者？ (A)政府積極拓展外銷 (B)全力發展高科技產業 (C)十大建設 (D)推動貿易自由化、國際化。

57、1970~1980年代，國際油價居高不下，造成全球經濟不景氣，臺灣經濟衰退。當時政府實施何種策略復甦臺灣經濟？ (A)實施土地改革 (B)推動十大建設 (C)請求美國支援 (D)積極發展精緻農業。

58、日本殖民統治時期，孩童若哭鬧時，長輩們只需恫嚇：「大人來了，再哭就會被抓去。」孩童立即安靜。請問：長輩們口中所稱的「大人」是指當時的何者？ (A)總督 (B)警察 (C)保正 (D)甲長。

59、政府遷臺後，為因應國際局勢及政治的演變，曾在不同時期採取不同的外交政策，以確保我國的國際地位。政府遷臺初期，曾長期接受哪一國提供的軍事、經濟援助？ (A)美國 (B)英國 (C)法國 (D)日本。

60、1941年，臺灣總督府為了配合皇民化運動，而有什麼教育措施？ (A)實施九年國民義務教育 (B)取消臺、日學生的差別待遇 (C)採隔離政策的原則 (D)取消小學校、公學校的區別，一律稱為「國民學校」。

基隆市立建德國民中學 109 學年度第 2 學期 七年級 社會科 補考題庫 答案

1	2	3	4	5	6	7	8	9	10
D	B	D	C	C	A	B	D	A	A
11	12	13	14	15	16	17	18	19	20
B	C	D	A	C	D	D	B	C	C
21	22	23	24	25	26	27	28	29	30
C	B	A	A	A	A	B	A	D	A
31	32	33	34	35	36	37	38	39	40
B	D	A	C	D	B	A	B	A	B
41	42	43	44	45	46	47	48	49	50
A	C	B	C	C	C	A	A	B	B
51	52	53	54	55	56	57	58	59	60
D	C	C	B	C	C	B	B	A	D